

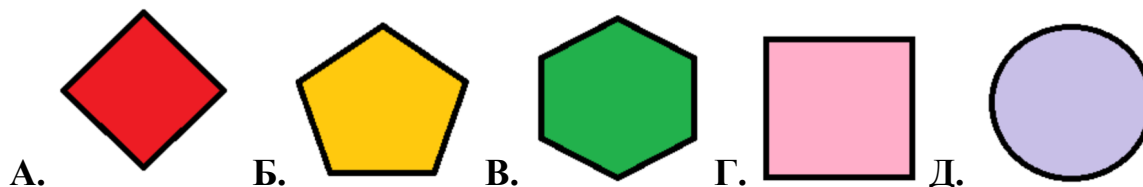
**VIII-я МЕЖРЕГИОНАЛЬНАЯ МЕЖПРЕДМЕТНАЯ ОЛИМПИАДА
ШКОЛЬНИКОВ, 1-2 классы
БЛАНК ЗАДАНИЙ**

Все ответы должны быть внесены в бланк ответов.
За каждый правильный ответ -1 балл.

I Блок. «МАТЕМАТИКА и ЛОГИКА»









I. Решите задачи, проявив логику и смекалку.

1. По дороге один за другим идут 5 детей. За каждой девочкой, кроме последней, идёт мальчик. Сколько мальчиков идут по дороге?
2. Год назад Арине было 7 лет. Сколько лет ей будет через 4 года?
3. Во дворе гуляли овечки и курочки. Сколько было курочек, если овечек было 3, а всего у животных было 18 ног?
4. Трое детей на празднике получили по 9 конфет. По одной конфете дети съели и по две подарили учительнице. Сколько конфет осталось у всех детей вместе?
5. Какое число больше 7, но меньше 10 и если к нему прибавить 2, то получится 11?
6. Все эти фигуры можно назвать, одним словом, но одна лишняя. Какая? Укажите соответствующую этой фигуре букву в бланке ответов.



II. Соотнесите определение геометрической фигуры с ее названием и изображением:

Определение	Название	Изображение
1. это четырехугольник, у которого все углы прямые	А. квадрат	Е. 
2. это плоская фигура, у которой нет углов	Б. прямоугольник	Ж. 
3. это многоугольник, у которого три угла и три стороны	В. круг	З. 
4. это многоугольник, у которых четыре угла и четыре стороны	Г. треугольник	И. 

<p>А)</p>  <p>у АЙ = Е</p>	<p>Б)</p>  <p>И л о 1,3,2</p>
<p>В)</p>  <p>” 143 7 о</p>	<p>Г)</p>  <p>З О=У Л</p>
<p>Д)</p>  <p>*Р 3,2,4,3</p>	<p>Е)</p>  <p>’ ” ’ А</p>
<p>Ж)</p>  <p>” ” Д</p>	<p>З)</p>  <p>” ” ’</p>
<p>И)</p>  <p>Н=В Ф=Ъ</p>	<p>К)</p>  <p>К Ы</p>

III Блок. «ОКРУЖАЮЩИЙ МИР»

I. «Мир вокруг нас»

I. Прочитайте предложения и вставьте на место пропусков верные слова:

1. Сегодня вторник, а послезавтра будет _____.
2. Весенние месяцы: _____, апрель, май.
3. В неделе _____ дней.
4. Столица России – это _____.
5. Половина часа – это _____ минут.

II. Необходимо составить памятку здорового образа жизни и правильного поведения, для этого выберите нужные высказывания:

1. Мыть руки перед едой обязательно.
2. Если на улице холодно, можно ходить без шапки – это закаляет.
3. Переходить дорогу можно на красный свет светофора, если машин нет.
4. Каждый день нужно гулять на свежем воздухе не меньше часа.
5. Нужно есть больше овощей и фруктов.
6. Можно перебивать людей старше тебя, если тебе скучно их слушать.
7. В транспорте нужно уступать место пожилым людям.

II. «В мире животных»











III. Выберите в каждом ряду лишнее слово и запишите его в бланк ответов:

- А. Берёза, осина, ромашка, дуб;
- Б. Воробей, синица, гусеница, ворона;
- В. Лиса, корова, медведь, заяц;
- Г. Осень, весна, лето, гроза;
- Д. Кузнечик, окунь, щука, карась;
- Е. Дождь, снег, град, облако.

IV. В русских народных сказках и в жизни животные и насекомые часто получают необычные имена-прозвища. Догадайтесь, кто спрятался под этими именами и запишите в бланк ответов.

- А. Побегайчик - _____
- Б. Горюха - _____
- В. Топтыгин - _____
- Г. Полоскун - _____
- Д. Порхайка - _____
- Е. Колючий - _____

V. Кто где живёт? Соотнесите животное с изображением его дома и запишите в бланк ответов название жилища:

	Животное		Изображение дома
1.		А.	
2.		Б.	
3.		В.	
4.		Г.	
5.		Д.	

**VIII-я МЕЖРЕГИОНАЛЬНАЯ МЕЖПРЕДМЕТНАЯ ОЛИМПИАДА
ШКОЛЬНИКОВ, 1-2 классы
БЛАНК ОТВЕТОВ**

Каждый правильный ответ – 1 балл.

Все поля заполняются участником лично.

ФИО

--

Название школы

Класс

--

--

I Блок. «Математика и логика»

№ Задания	I.						II.					
	1.	2.	3.	4.	5.	6.	1.	2.	3.	4.	5.	
Ответ												

II Блок. «Русский язык»

№ Задания	I.				
	1.	2.	3.	4.	5.
Ответ	А. _____ Б. _____ В. _____ Г. _____				
№ Задания	6.				
	1.	2.	3.	4.	5.
Ответ					
№ Задания	II.				
	А.	Б.	В.	Г.	
Ответ	Д.		Е.		Ж.
	З.		И.		
	К.		Л.		

III Блок. «Окружающий мир»

№ Задания	I.	II.	III.
	Ответ	1.	_____
2.		Б.	
3.		В.	
4.		Г.	
5.		Д.	
			Е.

№ Задания	IV.	V.		
	Ответ	А.	Животное	Изображение дома
Б.		1.		
В.		2.		
Г.		3.		
Д.		4.		
Е.	5.			