

4) Бабушка-пчела считает урожай. При этом она замечает, что:

- 3 мешка капусты и 2 куля свеклы весят столько же, сколько 9 мешков картошки;
- 3 мешка капусты и 6 кулей свеклы весят столько же, сколько 15 мешков картошки.

Один мешок картошки весит 10 килограмм. Сколько килограмм вместе весят 2 мешка картошки и 2 куля свеклы?

- А) 30 кг Б) 50 кг В) 70 кг





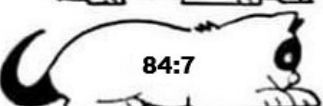

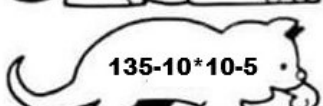










2. Винни-пух нашел огромный сундук с медом, но на нём висит замок. Замок кодовый. Помогите его открыть. Нужно набрать на замке девять разных цифр (1, 2, 3, 4, 5, 6, 7, 8, 9) так, чтобы были верны получившиеся равенства.

Известно только, где стоят цифры 1 и 3. Как расставить остальные?

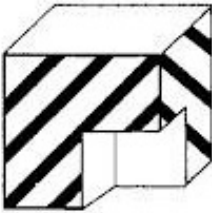



Заполните верными числами окошки в бланке ответов:

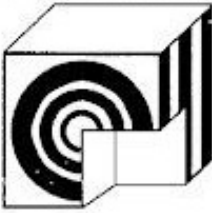



$$\square \square : \square = \square - \square = \boxed{3} + \square = \boxed{1} \cdot \square$$

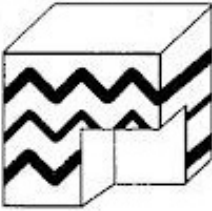



3. Решите примеры в котиках, соотнесите с клубком. Один из котиков останется без клубка. В ячейке этого котика в бланке ответов, поставьте прочерк (« - »):

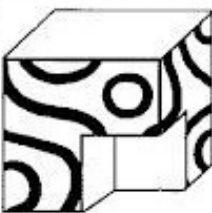



1)	 $21+42:7-6$	 18	А)
2)	 $99-9*8$	 3	Б)
3)	 $84:7$	 12	В)
4)	 $135-10*10-5$	 30	Г)
5)	 $(48-21) : 9$	 6	Д)
6)	 $79-8*8$	 21	Е)
7)	 $64:4+2$	 15	Ж)
8)	 $100-7*8$	 27	З)
9)	 $90-72:9-76$		

4. Подберите недостающий кубик:



1.    



2.    

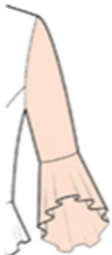


3.    



4.    

5. Расшифруйте ребусы и запишите названия математических понятий:

1)   $3 = \text{Щ}$

2)  $\times \text{Д}$ 

3)  $2,1,4,5$   $A = E$

4)  $\times \text{КР}$  $K = \text{ЖН}$

Блок III. «Окружающий мир».

Выберите верный вариант ответа

1. Какое болотное растение можно использовать вместо йода и ваты:



А) Морошка



Б) Клюква



В) Торфяной мох

2. Лист какого дерева считается символом славы, доблести:



А) Лист лавра



Б) Лист кедра



В) Лист дуба

3. Укажите искусственные водоёмы:

А) море, океан Б) река, озеро В) река, пруд Г) пруд, водохранилище


4. Соотнесите название гор, их изображение и описание. А также дайте ответ на вопрос: Какие из этих гор в старину называли «Каменный пояс земли Русской»? Все ответы внесите в бланк:

Название:

1) Кавказские горы 2) Алтайские горы 3) Уральские горы 4) Саянские горы

Изображение:

А)




Б)



В)



Г)



Описание:

Д) Эта горная система - одна из древнейших в мире. Она начала формироваться около 500 млн лет назад, в то время территория региона была скрыта под водами древнего Палеоазиатского океана.

Е) Эти горы характеризуются разнообразием высотных поясов. У подножия западных склонов расположены субтропические леса, с высотой они сменяются степными участками, лесами, альпийскими лугами и ледниками.

Ж) Это обширная горная система на юге Сибири, своей большей частью она находится в России, но также принадлежит и Монголии.

З) Эти горы таят множество самых разных полезных ископаемых и минералов. Именно на здесь открыли первое российское золото, а запасы платины были самыми большими в мире.

5. Мы знаем, что всё в природе взаимосвязано. Соотнесите событие и последствия:

Событие	Последствия
1) Кто-то изловил всех раков	А) Вода в водоёме помутнела.
2) Исчезли все ракушки (двустворчатые моллюски)	Б) В водоёме стало много больных рыб.
3) Озеро целиком заросло камышами, водорослями.	В) Начинается образование болот.
4) Зимой рыбаки наделали много лунок.	Г) В воду поступает кислород для дыхания рыб.

6. Отгадайте загадки и найдите соответствующий дорожный знак:

- 1) Затихают все моторы и внимательны шоферы,
Если знаки говорят: «Близко школа, детский сад!»
- 2) На дороге знак стоит строгим тоном говорит:
«Сюда машинам не подъезжать, запрещается проехать!»
- 3) Что за знак такой весит? «Стоп» - машинам он велит...
Пешеход, идите смело по дорожкам чёрно-белым.
- 4) Этот знак всем говорит:
"Велосипеду путь закрыт"!
- 5) Если ты устал в дороге, если ехать далеко,
Отдохни шофёр немного, место здесь отведено.
- 6) Шли из школы мы домой, видим – знак над мостовой.
Круг, внутри – велосипед, ничего другого нет.



А)



Б)



В)



Г)



Д)



Е)

7. Выпишите в бланк ответов только номера примеров безопасного поведения в интернете:

Примеры поведения в интернете

- 1) Ты хочешь зарегистрироваться на образовательном сайте. Форма просит указать имя и возраст, но не требует телефон или адрес.
- 2) Ты дал пароль от игры другу, который попросил «поиграть за тебя/пройти сложный уровень».
- 3) Ты собираешься идти на концерт и хвастаешься в сети фотографией своих билетов.
- 4) Ты рассказываешь родителям о неприятном случае в интернете.
- 5) На твоей аватарке мультяшный персонаж.
- 6) Ты рассказываешь ложные истории о людях.
- 7) Тебе пришла ссылка для получения бонусов в игре, и ты решил спросить разрешения у родителей.
- 8) Тебя попросили назвать адрес твоего друга, чтобы прислать ему подарок на день рождения. Ты согласился помочь.
- 9) Ты закрыл вкладку сайта, на котором появилось окно: «Твой компьютер заражён! Нажми ОК для очистки».

